



Ce document a été mis en ligne par l'organisme [FormaV](#)®

Toute reproduction, représentation ou diffusion, même partielle, sans autorisation préalable, est strictement interdite.

Pour en savoir plus sur nos formations disponibles, veuillez visiter :

[www.formav.co/explorer](http://www.formav.co/explorer)

ACADEMIE DE NICE	Session 2004	SUJET 1/11
BP	EQUIPEMENTS SANITAIRES	
E5 – EXPRESSION FRANCAISE ET OUVERTURE SUR LE MONDE		
Durée : 3h		Coef.: 3

## LES ETATS-UNIS ET LE MONDE

**DOCUMENT 1 :** Carte géopolitique: "L'omniprésence des Etats-Unis "

Source : Ministère du commerce et de la Défense des Etats-Unis, " L'Atlas géopolitique et culturel " du Petit Robert.

**DOCUMENT 2 :** « L'OTAN, un instrument de l'hégémonie américaine » d'après Paul-Marie de la Gorce.

Source : Le Monde Diplomatique (avril 1999).

**DOCUMENT 3 :** « Principaux exportateurs et importateurs participant au commerce mondial des services commerciaux en 1999 ».

Source : site Internet de l'OMC (Organisation Mondiale du Commerce).

**DOCUMENT 4 :** « La planète tétanisée » d'après Vittorio de Filippis et Jean Quatremer.

Source : Le Monde Diplomatique, 13 septembre 2001.

**DOCUMENT 5 :** « Enquête sur un réseau secret d'espionnage anglo-saxon » de Claude Gatti.

Source : Le Courrier International (extrait de " Il Mondo " de Milan avril 1998).

**DOCUMENT 6 :** « Le premier restaurant Mac Donald en Russie ».

Source : site Internet <http://www.jgallery.multimania.com/russie.htm>.

**DOCUMENT 7 :** « Afrique : Le rêve américain ».

Source : Le Courrier International (Mai 2001).

**DOCUMENT 8 :** Dessin de presse de Bado.

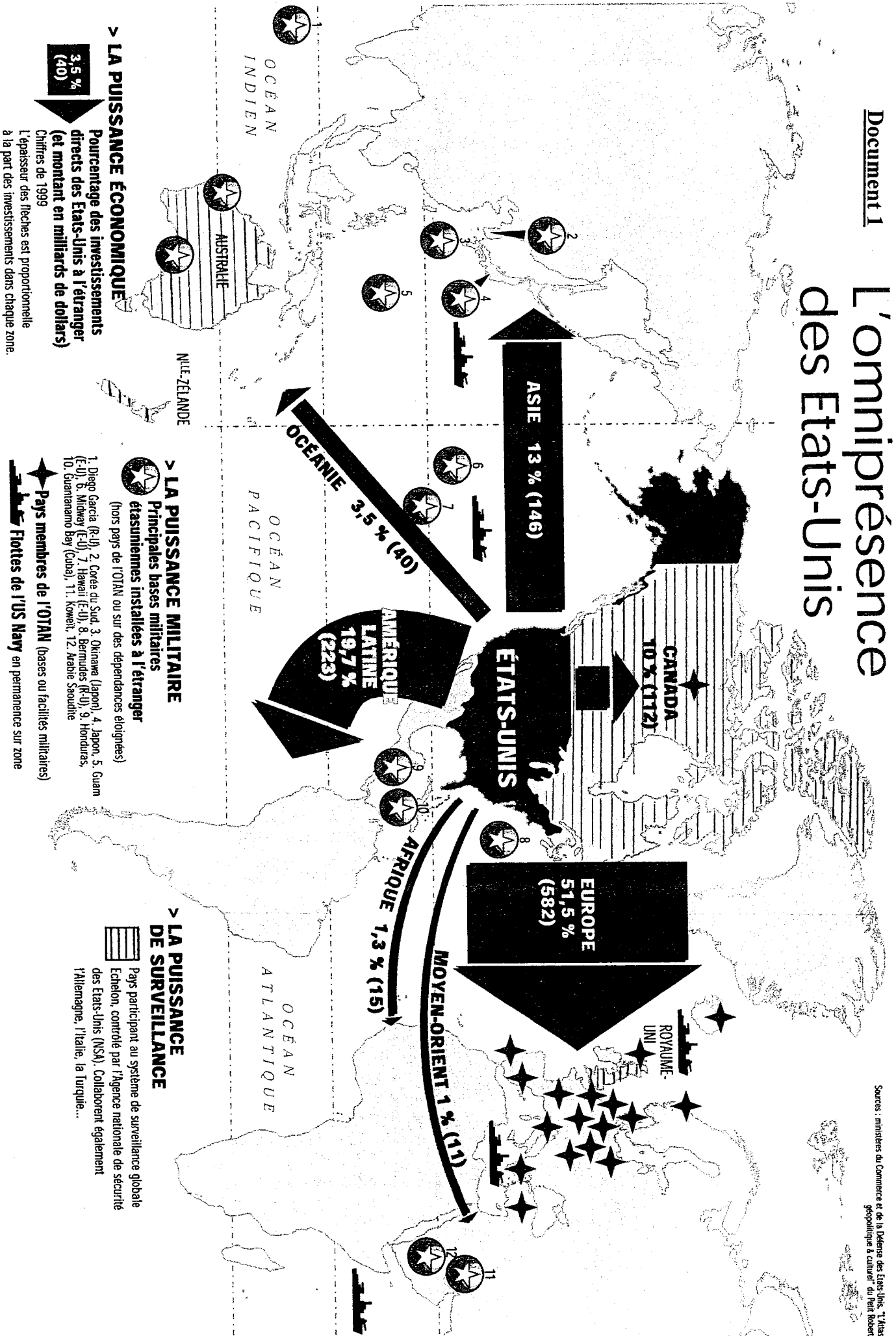
Source : journal canadien " Le Droit ", après le 11 septembre 2001.

**Vous rendrez la feuille de papier millimétré avec votre copie.**

QUESTIONS	Capacités	Barème
<b>Document 1</b> 1) Relevez deux aspects de la puissance américaine. Justifiez votre réponse en donnant un exemple concret pour chacun d'eux.	ID CS	2 2
<b>Documents 1 et 2</b> 2 a) Après lecture du texte, expliquez quelle était la fonction de l'OTAN au moment de sa création ? Quel groupe de pays y participait ? 2 b) Quel aspect du document 1 illustre l'hégémonie américaine ?	ID  CS	4  4
<b>Document 3</b> 3 a) Sur la feuille de papier millimétré jointe, réalisez un histogramme (graphique en barres) représentant la part des Etats-Unis, de l'Allemagne et du Japon dans le commerce mondial. Donnez un titre et une légende à votre graphique. 3 b) Quelles remarques pouvez-vous faire en ce qui concerne les Etats-Unis ?	TR  EJC	6  3
<b>Document 4</b> 4 a) Quelles conséquences pourraient avoir les attentats sur le comportement économique des ménages américains ? 4 b) Quel autre événement avait déjà provoqué le même comportement ? 4 c) Quelle serait la conséquence de ces comportements pour l'Europe ?	C  B C	2  2 2
<b>Documents 1 et 5</b> 5 a) Expliquez en quelques lignes ce qu'est le réseau « Echelon ». 5 b) D'après le document 1, quels sont les pays qui participent à ce système de surveillance ?	CS ID	3 2
<b>Document 6</b> 6) Expliquez en quoi ces photographies représentent un symbole fort de la diffusion de la culture américaine.	E	3
<b>Document 7</b> 7 a) Quel était le modèle des jeunes Africains avant le rêve américain ? Pourquoi ? 7 b) Que symbolise le rêve américain pour eux ? Donnez un exemple par domaine concerné.	C E	2 2
<b>Document 8 :</b> 8) Décrivez ce dessin puis interprétez-le en un paragraphe structuré d'une dizaine de lignes.	C D	2 2
<b>Synthèse :</b> 9) A l'aide des documents et de vos connaissances vous montrerez, dans un texte argumenté d'une trentaine de lignes, pourquoi les Etats-Unis, bien que « géant du monde » n'en sont pas moins vulnérables. Vous rédigerez votre texte en respectant les consignes suivantes : - Présence d'une introduction, d'un développement et d'une conclusion. - Vous appuierez votre argumentation par des exemples tirés de l'actualité. - Vous veillerez à la qualité de l'expression, de l'orthographe et de la syntaxe.	D β	10 3
<b>Législation du travail</b> 10) <u>Les conflits collectifs du travail.</u> a) Qu'est-ce qu'une grève ? b) Quels types de grève connaissez-vous? Quelle est leur signification ?	ID ID	2 2

# L'omniprésence des Etats-Unis

Sources : ministères du Commerce et de la Défense des Etats-Unis. Atlas géopolitique à l'appui de Fern Robert



## > LA PUISSANCE ÉCONOMIQUE

Pourcentage des investissements directs des Etats-Unis à l'étranger (et montant en milliards de dollars)

3,5 % (40)

Chiffres de 1999

L'épaisseur des flèches est proportionnelle à la part des investissements dans chaque zone.

## > LA PUISSANCE MILITAIRE

Principales bases militaires étasuniennes installées à l'étranger (hors pays de l'OTAN ou sur des dépendances éligibles)

1. Diego Garcia (R-U), 2. Corée du Sud, 3. Okinawa (Japon), 4. Japon, 5. Guam (E-U), 6. Midway (E-U), 7. Hawaii (E-U), 8. Bermudes (R-U), 9. Honduras, 10. Guantanamo Bay (Cuba), 11. Koweït, 12. Arabie Saoudite

**Pays membres de l'OTAN** (bases ou facilités militaires)  
**Flottes de l'US Navy** en permanence sur zone

## > LA PUISSANCE DE SURVEILLANCE

Pays participant au système de surveillance globale Echelon, contrôlé par l'Agence nationale de sécurité des Etats-Unis (NSA). Collaborent également l'Allemagne, l'Italie, la Turquie...

## Document 2

### L'OTAN, un instrument de l'hégémonie américaine

L'Alliance atlantique et son organisation militaire, nées en 1949, ont servi de structure au bloc occidental dirigé par les Etats-Unis durant les cinquante années suivantes, jusqu'à la fin de la guerre froide. Par l'intégration de leurs forces armées dans un système de défense placé sous un commandement américain, les Etats d'Europe de l'Ouest ont, en pratique, reconnu et assuré la prépondérance politique et stratégique des Etats-Unis sur l'Alliance et sur toute l'aire géographique qu'elle recouvrait. [ - - ]

Mais l'Alliance atlantique et son organisation militaire continuèrent à fonctionner sans changement. La fin de la guerre froide aurait pu remettre en cause, sinon l'existence de l'alliance, du moins son fonctionnement, puisque sa raison d'être, toujours invoquée par les gouvernements occidentaux, était de faire face à une menace - réelle ou supposée - venant du camp de l'Est. Or ce camp n'existait plus. Pourtant, aucun des gouvernements européens n'a paru vouloir, à cette occasion, reprendre plus de liberté d'action. Tous, au contraire, se sont déclarés en

faveur du maintien de l'OTAN, et même du renforcement de ses structures politiques et militaires. Les Etats-Unis, de leur côté, tout en retirant une part substantielle de leurs forces déployées jusque-là en Europe, ont tenu à maintenir une organisation qui assure leur prépondérance politique et stratégique sur le théâtre européen. Ils ont renforcé l'intégration des forces qui en dépendent, et ont obtenu qu'elles puissent intervenir hors de l'aire géographique constituée par le traité de l'Atlantique nord. [ - - ]

Les Etats-Unis ont ainsi pu faire de l'organisation politique et militaire de l'Alliance atlantique l'un des instruments privilégiés de leur politique étrangère. Les crises consécutives au démantèlement de la Yougoslavie en ont été l'occasion. Dans la dernière phase de la crise de Bosnie, ils ont obtenu de l'Organisation des Nations unies que l'OTAN soit chargée de l'application, au besoin par la force, des résolutions du Conseil de sécurité. Ils ont franchi un pas de plus en prévoyant d'abord, dans le règlement présenté à Rambouillet, que l'OTAN en contrôle militairement l'application, puis en préparant et en déclenchant la guerre contre la Serbie en dehors de tout mandat des Nations unies.

PAUL-MARIE DE LA GORCE.

Source : Le Monde Diplomatique (avril 1999)

## Document 3

Tableau I.7

### Principaux exportateurs et importateurs participant au commerce mondial des services commerciaux, 1999

(En milliards de dollars et en pourcentage)

Rang	Exportateurs	Valeur	Part	Variation annuelle en pourcentage	Rang	Importateurs	Valeur	Part	Variation annuelle en pourcentage
1	Etats-Unis	253,4	18,8	6	1	Etats-Unis	180,4	13,4	9
2	Royaume-Uni	101,5	7,5	3	2	Allemagne	132,8	9,9	3
3	France	82,6	6,1	-2	3	Japon	114,2	8,5	3
4	Allemagne	79,3	5,9	0	4	Royaume-Uni	81,4	6,0	4
5	Italie	61,2	4,5	-8	5	France	63,1	4,7	-4
6	Japon	60,3	4,5	-2	6	Italie	58,4	4,3	-7
7	Pays-Bas	54,2	4,0	3	7	Pays-Bas	47,5	3,5	1
8	Espagne	53,0	3,9	8	8	Canada	38,5	2,9	3
9	Belgique-Luxembourg	39,0	2,9	6	9	Belgique-Luxembourg	36,6	2,7	7
10	Hong Kong, Chine	34,9	2,6	4	10	Chine	30,7	2,3	16

Source : site Internet de l'OMC (Organisation Mondiale du Commerce)

## Document 4

### LA PLANETE TETANISEE

«Les Américains vont perdre confiance et donc réduire leurs dépenses de consommation.»

#### **Les craintes d'une récession forcément mondiale**

L'Europe résisterait difficilement à une crise outre-Atlantique.

Par VITTORIO DE FILIPPIS ET JEAN QUATREMER (À BRUXELLES)

Le jeudi 13 septembre 2001

Quelles seront les conséquences économiques des attentats qui ont frappé les Etats-Unis? Analystes financiers, *traders*, économistes, responsables politiques... la plupart des experts sont plutôt unanimes: «*Le drame qui frappe les Etats-Unis intervient au pire moment.*» Au moment même où l'activité de l'économie américaine s'est sérieusement réduite.

Car, depuis, les attentats ont tout remis en cause: le fragile équilibre de l'économie américaine, bien sûr, mais aussi celui de l'économie mondiale. Car les Etats-Unis pèsent à eux seuls plus de 25 % du PIB mondial.

**Scénarios.** Tous les experts estiment que l'avenir de l'économie mondiale dépend désormais de la réaction des ménages américains. Pour se faire une idée des scénarios possibles, ils se rappellent que la dernière récession américaine remonte à 1991... au lendemain de l'invasion du Koweït par les troupes irakiennes. Les ménages américains avaient alors fortement réduit leur consommation. «*Frappés cette fois en plein cœur, dans leur pays, les Américains vont perdre confiance dans l'avenir et donc réduire leurs dépenses de consommation. Leur moral est désormais sapé... Et cela risque de durer durant de longs mois,* estime l'économiste Philippe Waechter (Banque populaire Asset Management). *Et si les consommateurs américains ne sont plus là, les Etats-Unis ne seront plus là non plus pour tirer le reste de l'économie mondiale.*»

C'est sans doute ce scénario que les économistes redoutent le plus. Pour eux, les choses sont donc relativement claires: si la confiance américaine diminue, c'est le reste du monde qui en subira les conséquences. D'autant plus que les deux autres grands pôles de l'économie mondiale (Europe et Japon) subissent déjà un coup de frein simultané

qui, compte tenu de la mondialisation des échanges, a provoqué une chute de l'activité globale, aussi bien dans les pays développés que dans les pays émergents ou en développement. Récemment, le Fonds monétaire international évaluait à 2,7 % la progression du PIB de la planète pour cette année.

A Bruxelles et à Francfort, l'inquiétude est palpable, même si chacun se garde bien de se lancer dans l'exercice délicat d'une prévision chiffrée. Les autorités européennes craignent aussi que les Etats-Unis plongent dans la récession et, par contre-coup, entraînent la zone euro dans le gouffre. Dès la nouvelle de l'attentat connue, les réunions et les consultations entre les Européens se sont multipliées afin d'estimer l'impact des attentats sur la conjoncture mondiale.

Source : Le Monde Diplomatique.

## Document 5

### **Enquête sur un réseau secret d'espionnage anglo-saxon**

**Dans le cadre du pacte Ukusa, chapeauté par la NSA - une agence indépendante placée sous la responsabilité du directeur de la CIA -, les Etats-Unis, le Royaume-Uni, le Canada, l'Australie et la Nouvelle-Zélande filtrent conversations téléphoniques, fax et e-mails dans le monde entier.**

Surveillance du contenu des messages électroniques, écoutes téléphoniques, satellites-espions. On sait depuis longtemps que le système de télécommunications utilisé chaque jour par les particuliers, les entreprises, mais aussi les ambassades ou les gouvernements n'est pas d'une confidentialité à toute épreuve. On sait aussi que l'on s'espionne et que l'on se contrôle entre pays amis et alliés. Tout cela fait partie d'un jeu complexe et délicat d'après-guerre froide, dans lequel chacun est plus ou moins ami et concurrent de tous. On sait encore qu'il y a un joueur plus malin et plus fort que les autres : les Etats-Unis. Mais, jusqu'à présent, seuls quelques dirigeants et spécialistes connaissaient l'existence d'un réseau de surveillance globale d'une puissance et d'une étendue extraordinaires, que les Etats-Unis gèrent avec la collaboration de quatre autres pays anglophones : le Royaume-Uni, le Canada, l'Australie et la Nouvelle-Zélande.


Cet incroyable aspirateur à communications, baptisé Echelon, est le fruit de la technologie

mise au point par l'Ukusa Security Agreement, un pacte de collaboration pour la collecte de Signal Intelligence [renseignement électronique], conclu en 1948 et dont l'existence n'a jamais été officiellement confirmée par ses participants. "Le plus frappant, c'est que pendant toutes ces années aucun gouvernement, dans aucun des cinq pays membres, n'a jamais rien dit ou admis à propos de ce pacte", dit le chercheur Nicky Hager, auteur de *Secret Power*, un livre publié en Nouvelle-Zélande qui rompt pour la première fois le silence sur Ukusa et sur Echelon.

**Claudio Gatti .**

Source : *Le Courrier International* (extrait de « *Il Mondo* » de Milan. Avril 1998)

Document 6



Le premier restaurant Mac Donald en Russie  
Source: : site Internet <http://jgallay.multimania.com/russie.htm>

AFRIQUE ↘

## Le rêve américain


L'Afrique francophone n'est pas épargnée par l'«américamania». A Dakar, capitale du Sénégal, longtemps considérée comme la vitrine culturelle de l'Afrique francophone, le plus populaire des champions de lutte traditionnelle n'a-t-il pas choisi le pseudonyme de Tyson ? Chacun de ses combats, très médiatisés, commence avec une bannière étoilée enroulée autour de sa taille. Même les pirogues des pêcheurs de Dakar arborent fièrement des «stars and stripes» claquant au vent. «A tort ou à raison», note «Le Soleil» de Dakar, «les Etats-Unis nous apparaissent comme le pays où tout le monde peut réussir, quelle que soit sa couleur de peau.»

Aujourd'hui, les jeunes Africains ne rêvent plus d'expatriation en France. La patrie des ex-colonisateurs apparaît comme un second choix, un lot de consolation pour ceux qui n'auraient pas «décroché l'Amérique». La presse du continent consacre ses gros titres à la loterie annuelle permettant de décrocher la mythique «green card» ouvrant les portes du marché du travail américain. Cette année, l'Afrique arrive en tête du nombre des sélectionnés, avec 40 000 dossiers retenus.

Les Africains peuvent constater chaque jour sur leur écran de télévision que la réussite des Noirs d'outre-Atlantique n'est pas un mythe. Du chanteur Michael Jackson au golfeur Tiger Woods, en passant par Colin Powell, ils vérifient de visu que les Africains-Américains investissent avec succès l'industrie du spectacle, le monde du sport et celui de la politique. En comparaison, les images venues de France paraissent bien ternes. «Combien de Noirs de France ont décroché des premiers rôles au cinéma ? Qui est l'équivalent parisien de Denzel Washington ou d'Eddy Murphy ?» se demandent les jeunes Africains rêvant de reconnaissance.


Source : Le Courrier International (Mai 2001)

Document 8



Dessin de Bado publié dans le journal canadien « Le Droit » peu après les attentats du 11 septembre 2001 aux États-Unis.

ANNEXE ( A RENDRE AVEC LA COPIE )



Copyright © 2026 FormaV. Tous droits réservés.

Ce document a été élaboré par FormaV® avec le plus grand soin afin d'accompagner chaque apprenant vers la réussite de ses examens. Son contenu (textes, graphiques, méthodologies, tableaux, exercices, concepts, mises en forme) constitue une œuvre protégée par le droit d'auteur.

Toute copie, partage, reproduction, diffusion ou mise à disposition, même partielle, gratuite ou payante, est strictement interdite sans accord préalable et écrit de FormaV®, conformément aux articles L.111-1 et suivants du Code de la propriété intellectuelle. Dans une logique anti-plagiat, FormaV® se réserve le droit de vérifier toute utilisation illicite, y compris sur les plateformes en ligne ou sites tiers.

En utilisant ce document, vous vous engagez à respecter ces règles et à préserver l'intégrité du travail fourni. La consultation de ce document est strictement personnelle.

Merci de respecter le travail accompli afin de permettre la création continue de ressources pédagogiques fiables et accessibles.